

Governo do Estado de Santa Catarina  
Fundação Catarinense de Educação Especial (FCEE)

Edital nº 001/2012

<http://concursofcee.fepese.org.br>

# Caderno de Prova



18 de março



das 15:10 às 19:10 h



4 h de duração\*



50 questões



**S13a**

Analista Técnico de Gestão e Promoção da Educação Especial • Classe IV

**Médico Otorrinolaringologista**



**Confira o número que você obteve no ato da inscrição com o que está indicado no cartão-resposta.**

\* A duração da prova inclui o tempo para o preenchimento do cartão-resposta.

## Instruções

Para fazer a prova você usará:

- este **caderno de prova**;
- um **cartão-resposta** que contém o seu nome, número de inscrição e espaço para assinatura.

Verifique, no caderno de prova, se:

- faltam folhas e a sequência de questões está correta.
- há imperfeições gráficas que possam causar dúvidas.

**Comunique imediatamente ao fiscal qualquer irregularidade.**

## Atenção!

- Não é permitido qualquer tipo de consulta durante a realização da prova.
- Para cada questão são apresentadas 5 (cinco) alternativas diferentes de respostas (a, b, c, d, e). Apenas uma delas constitui a resposta correta em relação ao enunciado da questão.
- A interpretação das questões é parte integrante da prova, não sendo permitidas perguntas aos fiscais.
- Não destaque folhas da prova.

Ao terminar a prova, entregue ao fiscal o caderno de prova completo e o cartão-resposta devidamente preenchido e assinado.



# Conhecimentos Gerais

(20 questões)

## Português

10 questões

### Texto

Uma pesquisa em 27 países mostrou que a biblioteca familiar se correlaciona mais com bons resultados na educação do que a própria escolaridade dos pais. Uma biblioteca de 500 livros se associa a acréscimos de escolaridade que vão de 3 a 7 anos. Segundo os autores, “uma casa onde os livros são valorizados fornece às crianças ferramentas que são diretamente úteis no aprendizado escolar.” E tem mais, leitores mais assíduos visitam mais museus, fotografam mais e, surpresa, praticam mais esportes.

Claudio de Moura Castro, in *Veja*, 11 jan. 2012, p. 20.

1. Assinale a alternativa **correta**, em relação ao texto.

No que diz respeito à educação:

- a. ( ) a escolaridade dos pais não influencia no desempenho escolar dos filhos.
- b. ( ) para crianças de 3 a 7 anos a escolaridade está associada a bons livros.
- c. (X) mais que a escolaridade paterna, o que influencia positivamente é a existência de uma biblioteca familiar.
- d. ( ) está comprovado que alunos sem uma biblioteca familiar não têm condições de obter bons resultados escolares.
- e. ( ) segundo pesquisa realizada em 27 países, uma biblioteca familiar deve ter, no mínimo, 500 livros.

2. Observe este fragmento:

“E tem mais, leitores mais assíduos visitam mais museus, fotografam mais e, surpresa, praticam mais esportes.”

Assinale a alternativa **correta**.

- a. ( ) Em “leitores mais assíduos” o sentido da palavra sublinhada equivale ao de cuidadosos.
- b. ( ) A expressão “E tem mais” é essencial à compreensão da frase em que se encontra.
- c. ( ) A palavra surpresa encontra-se entre vírgulas por ser um aposto.
- d. ( ) Em “e, surpresa, praticam mais esportes” há uma oração coordenada conclusiva.
- e. (X) Em “E tem mais,” a vírgula pode ser substituída por dois pontos, sem prejuízo para o sentido da frase.

3. Assinale a alternativa **correta**.

- a. (X) A regra de acentuação de própria se aplica a assíduos.
- b. ( ) O acento gráfico das palavras são e úteis obedece à mesma regra gramatical.
- c. ( ) Em “se correlaciona” a palavra sublinhada implica ideia de condição.
- d. ( ) Em “no aprendizado escolar” há ideia de lugar físico.
- e. ( ) Passando para o plural o substantivo país, (“escolaridade dos pais”) ele receberá acento gráfico como países (“em 27 países”).

4. Observe as afirmações abaixo, em relação à existência ou não do acento indicador de crase.

1. Em “a própria escolaridade dos pais” o **a** não recebeu acento pois é apenas artigo definido.
2. Em “se associa **a** acréscimos de escolaridade” se **acrécimos** estivesse no singular haveria acento.
3. Em “que vão de 3 **a** 7 anos” o **a** não recebeu acento pois é apenas preposição.
4. Em “Das 3 **às** 7 horas visitaremos o museu” o **às** recebeu acento porque ocorreu contração da preposição **a** com o artigo definido **a**.
5. Em “fornece **às** crianças” o acento de crase permaneceria, se fosse escrito “**a** crianças”.

Assinale a alternativa que indica todas as afirmativas **corretas**.

- a. ( ) São corretas apenas as afirmativas 2 e 4.
- b. (X) São corretas apenas as afirmativas 1, 3 e 4.
- c. ( ) São corretas apenas as afirmativas 1, 3 e 5.
- d. ( ) São corretas apenas as afirmativas 1, 4 e 5.
- e. ( ) São corretas apenas as afirmativas 2, 3 e 5.

---

5. Assinale a alternativa **correta**.

- a. (X) V. S<sup>a</sup> espera que lhe apresentemos as instalações deste departamento?
- b. ( ) Por que você não procura a biblioteca que te falei?
- c. ( ) Em “mostrou que a biblioteca escolar” a forma verbal indica ação remota no passado.
- d. ( ) Em “onde os livros são valorizados” a forma verbal indica ação continuada, no passado.
- e. ( ) Em “visitam mais museus”, substituindo-se a palavra sublinhada por um pronome, obtém-se visitam-lhes mais.

---

6. Assinale a alternativa **correta**, quanto à regência.

- a. ( ) Moro à rua central da cidade.
- b. (X) Aspiro à aprovação neste concurso.
- c. ( ) Prefiro uma vida calma do que muita agitação.
- d. ( ) Assisti o filme na TV com meus amigos.
- e. ( ) Não gostei do jogo que assisti na TV.

7. Os vícios de linguagem ocorrem quando um falante emprega construções que não respeitam as normas da língua padrão (e ele o faz por desconhecê-las ou não se preocupar com elas).

Assinale a alternativa com a frase que **não** apresenta vício de linguagem.

- a. ( ) A pesquisa sobre educação trouxe uma surpresa inesperada para os pais.
- b. ( ) Todos são unânimes ao afirmar que a boa leitura é importante veículo de educação.
- c. ( ) Precisamos encarar de frente o problema da má educação no país.
- d. (X) Já faz quarenta anos que nos preocupamos com a educação brasileira.
- e. ( ) É nos pequenos detalhes que se verifica a causa do sucesso dos bons estudantes.

---

8. Parônimos são palavras semelhantes na pronúncia e na grafia, mas com sentidos diferentes.

Assinale a alternativa **correta**, quanto ao emprego do(s) parônimo(s).

- a. ( ) Desejo **retificar** meu apoio à reciclagem de lixo.
- b. ( ) O **iminente** juiz está **eminente** a ser desembargador.
- c. ( ) O ladrão foi preso em **fragrante**, ao chegar a sua casa.
- d. ( ) **Comprimintarei** meu colega, se ele for aprovado neste concurso.
- e. (X) Porque a leitura dos contos **fluiu**, lvo **frui** cada página do livro.

---

9. Assinale a alternativa gramaticalmente **correta**.

- a. (X) Há menos candidatas do que eu esperava.
- b. ( ) Dizes que não entreguei-te uma cópia do novo guia de trânsito?
- c. ( ) Nesta sala a turma, silenciosa, respondem as questões da prova.
- d. ( ) Se meus amigos proporem uma viagem, aceitarei ir junto.
- e. ( ) Para Carlos, praia, sol ou chuva, calor, tudo sempre lhe agradam.

**10.** Assinale a alternativa **correta**, em relação aos requisitos de uma redação oficial.

- a. ( ) Nas comunicações oficiais é facultativo o emprego de pronomes de tratamento.
- b. ( ) Não é obrigatório o uso de linguagem culta nos atos e expedientes oficiais, a fim de que qualquer pessoa possa entendê-los.
- c. ( ) Se a autoridade a quem é dirigido um documento oficial for amiga de quem assina o documento, admitem-se expressões de afetividade (*Querido amigo*, por exemplo).
- d. ( ) Em correspondência dirigida a autoridades tratadas por *Vossa Excelência* é obrigatório o tratamento DD (Digníssimo), para lembrar a dignidade do cargo que elas ocupam.
- e. (X) Nas comunicações oficiais empregam-se dois tipos de fechos: Respeitosamente, para autoridades superiores e para o Presidente da República, e Atenciosamente, para autoridades de mesma hierarquia ou de hierarquia inferior.

## **Estudos Sociais**

5 questões

**11.** Em relação à Independência do Brasil, analise as afirmativas abaixo:

1. A independência não foi imediatamente aceita por todos os grupos políticos organizados no Brasil;
2. A emancipação brasileira só foi reconhecida por parte de Portugal em 1825, mediante pagamento de indenização;
3. O primeiro país a reconhecer a independência do Brasil foi a Inglaterra;
4. O regime que vigorou no pós-independência foi o de monarquia constitucional.

Assinale a alternativa que indica todas as afirmativas **corretas**.

- a. ( ) São corretas apenas as afirmativas 1 e 2.
- b. ( ) São corretas apenas as afirmativas 2 e 3.
- c. ( ) São corretas apenas as afirmativas 2 e 4.
- d. (X) São corretas apenas as afirmativas 1, 2 e 4.
- e. ( ) São corretas apenas as afirmativas 1, 3 e 4.

**12.** O Brasil historicamente vem se posicionando como um dos líderes políticos no âmbito regional e internacional com destaque para o cenário latino-americano. Por possuir proporções continentais, é favorecido em sua geopolítica fazendo fronteira, na região centro-oeste, com os países:

- a. ( ) Peru e Bolívia.
- b. ( ) Equador e Peru.
- c. (X) Bolívia e Paraguai.
- d. ( ) Chile e Argentina.
- e. ( ) Colômbia e Venezuela.

---

**13.** Presidente que sancionou a Lei de Anistia, tornando possível a volta dos exilados políticos e a libertação de acusados de crimes políticos durante o período militar (1964-1985).

- a. ( ) José Sarney
- b. ( ) Itamar Franco
- c. ( ) Tancredo Neves
- d. (X) João Baptista Figueredo
- e. ( ) Fernando Henrique Cardoso

---

**14.** Ao longo do ano de 2011, algumas instabilidades financeiras assolaram o sistema econômico internacional, com destaque para a crise grega.

Aponte o principal problema enfrentado pela economia da Grécia:

- a. ( ) Desvalorização cambial do dracma.
- b. ( ) Aumento do nível emprego formal e informal.
- c. (X) Elevado grau de endividamento do governo e do setor privado.
- d. ( ) Aumento de impostos de importação sobre produtos industrializados.
- e. ( ) Embargo econômico por parte dos Estados Unidos e Rússia.

15. O Haiti, país mais pobre das Américas, foi vítima, em janeiro de 2010, de um terremoto que matou milhares de pessoas, além de deixar a capital Porto Príncipe destruída e a economia local paralisada, agravando ainda mais os problemas sociais do país.

O Brasil foi um dos diversos países que enviou ajuda humanitária em decorrência do desastre, mas vale lembrar, no entanto, que a atuação junto ao Haiti já vem de tempos anteriores ao terremoto, e se destaca pelo(a):

- a.  liderança da força de paz organizada pelas Nações Unidas, através do envio de militares ao país.
- b.  acordo comercial para importação de produtos agrícolas e maquinofaturados isentos de imposto de importação.
- c.  envio de verbas para combater a fome através da implementação do programa "Fome Zero Haiti".
- d.  criação de centros de ensino profissionalizantes que atenderão estudantes do ensino fundamental e médio na capital Porto Príncipe.
- e.  liberação anual de 200 mil vistos de trabalho para famílias com baixa renda emigrarem para o Brasil.

## Noções de Informática

5 questões


16. Considere a figura abaixo retirada de uma planilha do Microsoft Excel 2010:

	A	B
1	Empréstimo	
2	Valor empréstimo	R\$ 5.631,55
3	Quantidade de parcelas	10
4	Juros (am)	1,00%
5		
6	Valor da parcela	R\$ 594,59
7	Total	R\$ 5.945,91

Assinale a alternativa que indica **corretamente** a fórmula aplicada nas células B6:

- a.  =SOMA(B2;B4)
- b.  =PGTO(B4;B3;-B2;0)
- c.  =SUBTOTAL(4;B2;B3;B4)
- d.  =PRODUTO(B6;B3)
- e.  =PROB(B2;B3;B4)

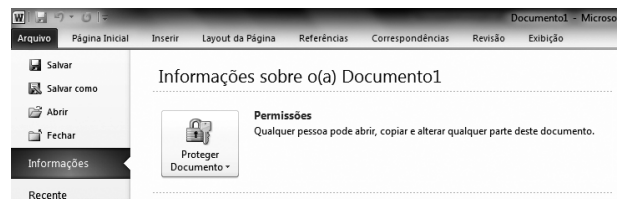
17. Identifique as afirmativas que definem corretamente o Desfragmentador de Disco no Windows 7:

- 1. Reorganiza dados fragmentados para que o disco rígido trabalhe de forma mais eficiente.
- 2. Gerencia os diferentes serviços que são executados em segundo plano.
- 3. Os passos para abrir o Desfragmentador de Disco é: clique no botão iniciar , em Todos os Programas, em Acessórios, em Ferramentas do Sistema e, depois, em Desfragmentador de Disco.

Assinale a alternativa que indica todas as afirmativas **corretas**.

- a.  É correta apenas a afirmativa 1.
- b.  É correta apenas a afirmativa 2.
- c.  São corretas apenas as afirmativas 1 e 3.
- d.  São corretas apenas as afirmativas 2 e 3.
- e.  São corretas as afirmativas 1, 2 e 3.

18. Analise a figura abaixo:













Assinale a alternativa que corresponde **corretamente** todas as opções exibidas para Proteger Documento no Windows Word 2010:

- a.  Marcar como Final; Criptografar com Senha.
- b.  Inspeccionar Documento; Verificar Acessibilidade; Verificar Compatibilidade.
- c.  Restringir Permissão por Pessoas; Criptografar com Senha.
- d.  Restringir Edição; Adicionar uma Assinatura Digital.
- e.  Marcar como Final; Criptografar com Senha; Restringir Edição; Restringir Permissão por Pessoas; Adicionar uma Assinatura Digital.



**19.** Os atalhos de teclado são combinações de duas ou mais teclas que, quando pressionadas, podem ser usadas para executar uma tarefa que normalmente exigiria um mouse ou um dispositivo apontador.

Assinale a alternativa que indica a combinação de teclas **correta** para abrir o *Windows Mobility Center*, no Windows 7.

- a. ( ) Teclas  + 
- b. (X) Teclas  + 
- c. ( ) Teclas  + 
- d. ( ) Teclas  + 
- e. ( ) Teclas  + 

---

**20.** Considere a figura abaixo retirada de uma planilha do Microsoft Excel 2010:

	A	B	C	D
1	<b>Janeiro</b>	<b>Fevereiro</b>	<b>Março</b>	
2	R\$ 550,00	R\$ 1.056,22	R\$ 123,90	
3	R\$ 166,33	-R\$ 123,00	R\$ 87,55	
4	R\$ 233,77	R\$ 723,43	R\$ 124,00	

Assinale a alternativa que indica **corretamente** o Minigráfico aplicado nas células D2, D3 e D4:

- a. ( ) Minigráfico de Coluna.
- b. ( ) Minigráfico de Área.
- c. ( ) Minigráfico de Barra.
- d. (X) Minigráfico de Linha.
- e. ( ) Minigráfico de Ganhos / Perdas.

## Conhecimentos Específicos

(30 questões)

21. Com fundamento na Lei nº 6.745, de 28 de dezembro de 1985, que estabelece o Estatuto dos Servidores Públicos Civis do Estado de Santa Catarina, verificada acumulação proibida de cargos, funções ou empregos e, em processo sumário, comprovada a boa fé, o funcionário será obrigado a optar por um dos cargos no prazo de:

- a. ( ) 5 dias.
- b. ( ) 10 dias.
- c. (X) 15 dias.
- d. ( ) 30 dias.
- e. ( ) 60 dias.

---

22. De acordo com o Estatuto dos Servidores Públicos Civis do Estado de Santa Catarina, ao funcionário ocupante de cargo efetivo é facultado gozar licença especial, com remuneração:

- a. ( ) Após cada quinquênio de serviço público estadual, como prêmio.
- b. (X) Para atender ao menor adotado, em idade pré-escolar, pelo prazo de 3 meses.
- c. ( ) Para tratamento de interesses particulares, pelo prazo de até 6 anos.
- d. ( ) Para promoção de sua campanha eleitoral, desde o registro oficial de sua candidatura até o dia seguinte ao da respectiva eleição.
- e. ( ) Por motivo de mudança compulsória de domicílio do(a) cônjuge ou companheiro(a).

23. Um diapasão é vibrado e colocado sobre a mastoide (via óssea) de um paciente. Logo após, o diapasão foi colocado a cerca de 2 cm do conduto auditivo externo ipsilateral (via aérea). O paciente refere sensação auditiva por via óssea e ausência da mesma por via aérea.

Assinale a alternativa que contém a denominação **correta** do resultado do teste descrito.

- a. ( ) Teste de Webber negativo
- b. ( ) Teste de Webber positivo
- c. ( ) Teste de Rinnie negativo
- d. (X) Teste de Rinnie negativo patológico
- e. ( ) Teste de Rinnie positivo patológico

---

24. Após emergir pelo forame jugular, corre anteriormente entre a veia jugular e a artéria carótida interna, superficialmente a esta e posterior ao processo estilóide e seus músculos. Emite três ramos: timpânico (Jacobson), do seio carotídeo (Hering) e faríngeos.

Assinale a alternativa que cita **corretamente** o nervo craniano descrito.

- a. ( ) nervo vago
- b. ( ) nervo acessório
- c. ( ) nervo hipoglosso
- d. ( ) nervo abducente
- e. (X) nervo glossofaríngeo



**25.** Paciente com Rinossinusite Aguda evoluindo com proptose, oftalmoplegia, redução da acuidade visual, hipoestesia em hemiface direita e dor ocular intensa à direita. Paciente sem sinais de toxemia e em bom estado geral.

Assinale a alternativa que indica o diagnóstico mais provável.

- a. ( ) Complicação orbitária de uma rinossinusite aguda, acometendo a região pré septal
- b. ( ) Complicação orbitária de uma rinossinusite aguda, acometendo a região pós septal subperiosteal
- c. ( ) Complicação intracraniana de uma rinossinusite aguda, causando trombose do seio cavernoso
- d. (X) Complicação orbitária de uma rinossinusite aguda, acometendo a região do ápice orbitário.
- e. ( ) Complicação intracraniana de uma rinossinusite aguda, levando à formação de um abscesso intraparenquimatoso de lobo frontal.

---

**26.** Assinale a alternativa **correta**.

- a. (X) O canal semicircular lateral forma um ângulo de 30 graus com o plano horizontal
- b. ( ) O canal semicircular lateral forma um ângulo de 45 graus com o plano horizontal.
- c. ( ) O canal semicircular posterior forma um ângulo de 15 graus com o plano medial-sagital.
- d. ( ) O canal semicircular superior forma um ângulo de 35 graus com o plano medial-sagital.
- e. ( ) O canal semicircular posterior forma um ângulo de 55 graus com o plano medial-sagital.

**27.** Paciente com Carcinoma de Células Escamosas apresentando à videolaringoscopia lesão comprometendo os 2/3 anteriores da prega vocal esquerda, comissura anterior e 1/3 anterior da prega vocal direita. A mobilidade da prega esquerda está reduzida. A tomografia de pescoço mostrou a presença de 01 linfonodo isolado à esquerda, com 3,5 cm de diâmetro. Não há sinais de erosão da cartilagem tireóide. Não apresentava sinais de metástase à distância.

Nesse caso, trata-se de um estadiamento:

- a. ( ) T1b N1 M0.
- b. ( ) T1b N2a M0.
- c. ( ) T2 N1 M0.
- d. (X) T2 N2a M0.
- e. ( ) T2 N2b M0.

---

**28.** Durante a deglutição há uma fase voluntária onde ocorre a elevação e impulsão posterior do bolo alimentar em direção aos pilares amigdalianos anteriores e à faringe, iniciando o “reflexo da deglutição”, cujos receptores estão espalhados pelos pilares amigdalianos, base da língua, epiglote e recessos piriformes.

Assinale a alternativa que indica **corretamente** a fase da deglutição descrita.

- a. ( ) Fase faríngea
- b. ( ) Fase oral preparatória
- c. (X) Fase oral de transporte
- d. ( ) Fase glossofaríngea
- e. ( ) Fase esofágica

**29.** Paciente com quadro de Otite Média Aguda, evoluindo com abaulamento e hiperemia retroauricular direita progressiva. Hoje refere piora dos sintomas e apresenta paresia em toda hemiface direita. Nega comorbidades. Otoscopia revela membrana timpânica direita abaulada e hiperemiada.

Assinale a alternativa que indica **corretamente** a conduta inicial mais adequada a ser tomada no pronto atendimento desse paciente.

- a. ( ) Punção Lombar.
  - b. ( ) Ressonância Magnética.
  - c. ( ) Tomografia computadorizada de ossos temporais apenas.
  - d. ( ) Tomografia Computadorizada de Ossos temporais e início da antibioticoterapia apenas.
  - e. (X) Tomografia Computadorizada de Ossos Temporais, início da antibioticoterapia e Timpanocentese.
- 

**30.** Sobre as emissões otoacústicas, é **correto** afirmar:

- a. ( ) As emissões otoacústicas são sons inaudíveis gerados pela estria vascular coclear.
- b. ( ) As emissões otoacústicas são sons inaudíveis gerados pelas células ciliadas internas da cóclea.
- c. (X) As emissões otoacústicas evocadas transitórias manifestam-se como uma onda sonora complexa durante alguns milissegundos após o estímulo, com latência curta aos componentes de alta frequência (4 e 5 kHz) e latências mais longas aos componentes de frequência baixa (1 kHz).
- d. ( ) As emissões otoacústicas evocadas produto de distorção são geradas por dois tons puros apresentados em sequência, gerando respostas lineares e saturando em níveis moderados de estimulação.
- e. ( ) A emissão otoacústica espontânea é a mais utilizada nos programas de triagem auditiva neonatal.

**31.** Inicia-se no meato acústico interno, com aproximadamente 2-4 mm de comprimento, terminando no gânglio geniculado, onde emergem o primeiro ramo intratemporal (nervo petroso superficial maior) e o segundo ramo intratemporal (ramo comunicante que emite fibras para o nervo petroso superficial menor).

Assinale a alternativa que cita **corretamente** a porção do nervo facial descrita.

- a. ( ) Porção Meatal
  - b. (X) Porção Labiríntica
  - c. ( ) Porção Timpânica
  - d. ( ) Porção Mastoídea
  - e. ( ) Porção Supranuclear
- 

**32.** Com relação à vascularização das cavidades nasais, é **correto** afirmar:

- a. (X) a artéria esfenopalatina é ramo do sistema da artéria carótida externa.
  - b. ( ) artéria maxilar interna é ramo do sistema da artéria carótida interna.
  - c. ( ) artéria etmoidal anterior é ramo do sistema da artéria carótida externa.
  - d. ( ) artéria etmoidal posterior é ramo do sistema da artéria carótida externa.
  - e. ( ) artéria nasal lateral é ramo do sistema da artéria carótida interna.
- 

**33.** Paciente feminino de 47 anos, com lesão de aproximadamente 3 cm, indolor, de consistência firme, próximo ao ângulo da mandíbula à direita. Relata aumento progressivo da lesão há 3 anos. O exame histológico do material ressecado mostra células epiteliais ductais em um estroma mixóide contendo ilhas de formação condróide e óssea.

Assinale a alternativa que indica **corretamente** o diagnóstico mais provável do quadro exposto.

- a. ( ) Mioepitelioma
- b. (X) Adenoma pleomórfico
- c. ( ) Carcinoma mucoepidermóide
- d. ( ) Carcinoma de células escamosas
- e. ( ) Tumor de Warthin

**34.** O implante coclear está indicado para pacientes pré-linguais com perda auditiva neurossensorial profunda bilateral a partir dos 12 meses de idade, e para crianças com perda auditiva neurossensorial severa bilateral a partir de 18 meses de idade, que apresentem percepção de fala menor ou igual à “categoria 3 de GEERS”, desde que tenham realizado experiência efetiva com prótese auditiva (FDA – *Food and Drug Administration* – EUA).

Assinale a alternativa que descreve **corretamente** esta categoria 3 de GEERS.

- a. ( ) Não é capaz de detectar fala.
- b. ( ) Detecção de fala, porém sem diferenciar os estímulos, em seus aspectos supra-segmentais.
- c. ( ) Padrão de percepção (capaz de diferenciar as palavras pelos traços supra-segmentais).
- d. ( ) Identificação de palavras por meio do reconhecimento da vogal (em conjunto fechado).
- e. (X) Iniciação da identificação de palavras. Diferencia palavras, em conjunto fechado, com base na informação fonética.

---

**35.** Assinale a alternativa que descreve **corretamente** o agente etiológico bacteriano mais comumente encontrado no seio paranasal de pacientes com rinosinusite crônica e Fibrose Cística.

- a. ( ) *Staphylococcus Aureus*
- b. (X) *Pseudomonas Aeruginosa*
- c. ( ) *Streptococcus Pneumoniae*
- d. ( ) *Haemophilus Influenzae*
- e. ( ) *Moraxella Catharralis*

---

**36.** Assinale a alternativa que indica **corretamente** a mal formação congênita mais comum da linha média nasal.

- a. ( ) Teratoma
- b. ( ) Meningocele
- c. (X) Cistos dermóides
- d. ( ) Gliomas Nasais
- e. ( ) Encefaloceles

**37.** Pontos branco-amarelados da mucosa oral, podendo formar placas, localizados principalmente no plano oclusal, lábios e área retro-molar. Seu estudo histológico revela glândulas sebáceas na lâmina própria e submucosa.

Assinale a alternativa que indica **corretamente** a lesão descrita.

- a. ( ) Caseum
- b. ( ) Herpes Simples
- c. ( ) Leucoplasia Pilosa
- d. (X) Grânulos de Fordyce
- e. ( ) Morsicatio Mucosae Oris

---

**38.** Doença mucocutânea vesicular, de etiologia aparentemente autoimune, caracterizada pela produção de anticorpos contra a desmogleína 3, causando uma perda da adesividade intracelular e, conseqüente, acantólise e formação de bolhas intraepiteliais.

Assinale a alternativa que indica **corretamente** a doença descrita.

- a. (X) Pênfigo
- b. ( ) Penfigóide
- c. ( ) Herpangina
- d. ( ) Eritema Multiforme
- e. ( ) Epidermólise Bolhosa

---

**39.** Displasia congênita da orelha interna, caracterizada por ausência da cóclea, hipoplasia do conduto auditivo interno e displasia do vestíbulo.

Assinale a alternativa que **melhor** caracteriza a displasia descrita.

- a. (X) Aplasia de Michel
- b. ( ) Aplasia de Scheibe
- c. ( ) Displasia de Mondini
- d. ( ) Síndrome do Alargamento do Aqueduto Vestibular
- e. ( ) Surdez Neurossensorial ligada ao cromossomo X

**40.** Síndrome caracterizada por heterocromia de íris, cabelos precocemente brancos, distopia canthorum (deslocamento lateral do canto medial do olho, achatamento da raiz nasal), podendo cursar com perda auditiva bilateral neurossensorial de grau variável, congênita ou adquirida.

Assinale a alternativa que indica **corretamente** a síndrome descrita.

- a. ( ) Neurofibromatose tipo I
  - b. ( ) Neurofibromatose tipo II
  - c. ( ) Síndrome de Stickler
  - d. ( ) Síndrome de Melnick Fraser
  - e. (X) Síndrome de Waardenburg
- 

**41.** Síndrome autossômica recessiva, caracterizada por perda auditiva neurossensorial e alterações no metabolismo do iodo.

Assinale a alternativa que indica **corretamente** a síndrome descrita.

- a. ( ) Síndrome de Usher
  - b. (X) Síndrome de Pendred
  - c. ( ) Síndrome de Johanson Blizzard
  - d. ( ) Síndrome de Jervell e Lange-Nielsen
  - e. ( ) Síndrome de Alport
- 

**42.** Com o paciente sentado na maca e as pernas pendentes, pede-se para que ele vire sua cabeça para a esquerda e, então, mova o seu corpo rapidamente para decúbito lateral direito, mantendo a cabeça virada para a esquerda. Então, pede-se para que se mova para decúbito lateral esquerdo, mantendo a cabeça na mesma posição inicial.

Assinale a alternativa que **melhor** descreve a manobra citada.

- a. ( ) Manobra de Epley
- b. ( ) Manobra de Menière
- c. (X) Manobra de Semont
- d. ( ) Manobra de Dix Hallpike
- e. ( ) Manobra de Brandt-Daroff

**43.** Qual a causa mais comum de vertigem na infância, excluindo-se doenças da orelha média?

- a. ( ) Cinetose
  - b. ( ) Doença de Menière
  - c. ( ) Torcicolo Proxístico da Infância
  - d. ( ) Síndrome do Aqueduto Vestibular Alargado
  - e. (X) Vertigem Postural Paroxística Benigna da Infância
- 

**44.** Qual a localização mais comum do Carcinoma de Células Escamosas Nasossinusal?

- a. (X) Seio Maxilar
  - b. ( ) Seio frontal
  - c. ( ) Seio esfenoidal
  - d. ( ) Seio etmoidal
  - e. ( ) Cavidade nasal
- 

**45.** Relacione as colunas 1 e 2 abaixo, com relação à fisiologia do sono e suas fases.

**Coluna 1** Fases do sono

- 1. Sono NREM
- 2. Sono REM

**Coluna 1** Fisiologia do sono

- ( ) Relaxamento muscular com manutenção do tônus
- ( ) Sonhos
- ( ) EEG com predomínio de ritmos rápidos e de baixa voltagem
- ( ) Presença de movimentos oculares rápidos
- ( ) Respiração e ECG regulares

Assinale a alternativa que indica a sequência correta, de cima para baixo.

- a. ( ) 1 – 1 – 2 – 2 – 2
- b. ( ) 1 – 2 – 1 – 2 – 1
- c. (X) 1 – 2 – 2 – 2 – 1
- d. ( ) 1 – 2 – 2 – 2 – 2
- e. ( ) 2 – 2 – 1 – 2 – 1

**46.** Considerada uma das melhores técnicas para quantificação objetiva da sonolência diurna. Consiste em 4 a 5 registros poligráficos durante o dia, em laboratório específico, realizados em intervalos de duas horas, com duração de vinte minutos. Em cada registro mede-se o tempo que o indivíduo demora para dormir, calculando-se, então, a latência média do sono.

Assinale a alternativa que **melhor** descreve o exame citado.

- a. ( ) Polissonografia
  - b. ( ) Escala de Epworth
  - c. ( ) Escala de Stanford
  - d. ( ) Escala de Friedman
  - e. (X) Teste múltiplo de latência do sono
- 

**47.** De acordo com o exame de polissonografia e o Índice de Apnéia Hipopnéia (IAH), assinale a alternativa que contém o intervalo de valores do IAH para considerarmos um criança com Síndrome da Apnéia Hipopnéia Obstrutiva do Sono de Grau Moderado.

- a. ( ) 01 – 05 eventos/hora
  - b. (X) 05 – 10 eventos/hora
  - c. ( ) 10 – 15 eventos/hora
  - d. ( ) 15 – 30 eventos/hora
  - e. ( ) 10 – 20 eventos/hora
- 

**48.** Célula mais anterior do seio etmoidal anterior, traduz-se endoscopicamente por uma elevação da parede lateral do nariz, anteriormente à inserção da porção vertical da concha média.

Assinale a alternativa que **melhor** descreve a estrutura anatômica citada.

- a. (X) Agger Nasi
- b. ( ) Recesso frontal
- c. ( ) Célula Frontal Tipo II
- d. ( ) Célula de Haller
- e. ( ) Célula de Onodi

**49.** Músculo intrínseco da laringe, cuja contração traciona o processo muscular da cartilagem aritenóidea, no sentido ântero-inferior. Esse movimento promove a rotação da cartilagem aritenóidea sobre a cartilagem cricóidea, resultando em medialização e rebaixamento do processo vocal.

Assinale a alternativa que indica **corretamente** o músculo responsável pela ação descrita.

- a. ( ) músculo cricotireóideo
  - b. ( ) músculo tirearitenóideo
  - c. ( ) músculo interaritenóideo
  - d. (X) músculo cricoaritenóideo lateral
  - e. ( ) músculo cricoaritenóideo posterior
- 

**50.** Espaço cervical profundo localizado entre as lâminas alar e pré-vertebral da camada profunda da fáscia cervical profunda, estendendo-se da base do crânio até o mediastino posterior ao nível das vértebras T5 e T6. É limitado lateralmente pela fusão entre as lâminas alar e pré-vertebral, nos processos transversos das vértebras.

Assinale a alternativa que indica **corretamente** o espaço cervical descrito.

- a. (X) Espaço do Perigo
- b. ( ) Espaço Parafaríngeo
- c. ( ) Espaço Pré vertebral
- d. ( ) Espaço Retrofaríngeo
- e. ( ) Espaço Mastigatório

**Página  
em Branco.  
(rascunho)**





**FEPESE • Fundação de Estudos e Pesquisas Sócio-Econômicos**  
Campus Universitário • UFSC • 88040-900 • Florianópolis • SC  
Fone/Fax: (48) 3953-1000 • <http://www.fepese.org.br>