

Governo do Estado de Santa Catarina
Fundação Catarinense de Educação Especial (FCEE)

Editais nº 001/2012

<http://concursofcee.fepese.org.br>

Caderno de Prova



18 de março



das 15:10 às 19:10 h



4 h de duração*



50 questões



S17b

Analista Técnico de Gestão e Promoção da Educação Especial • Classe IV

Optometrista



Confira o número que você obteve no ato da inscrição com o que está indicado no cartão-resposta.

* A duração da prova inclui o tempo para o preenchimento do cartão-resposta.

Instruções

Para fazer a prova você usará:

- este **caderno de prova**;
- um **cartão-resposta** que contém o seu nome, número de inscrição e espaço para assinatura.

Verifique, no caderno de prova, se:

- faltam folhas e a sequência de questões está correta.
- há imperfeições gráficas que possam causar dúvidas.

Comunique imediatamente ao fiscal qualquer irregularidade.

Atenção!

- Não é permitido qualquer tipo de consulta durante a realização da prova.
- Para cada questão são apresentadas 5 (cinco) alternativas diferentes de respostas (a, b, c, d, e). Apenas uma delas constitui a resposta correta em relação ao enunciado da questão.
- A interpretação das questões é parte integrante da prova, não sendo permitidas perguntas aos fiscais.
- Não destaque folhas da prova.

Ao terminar a prova, entregue ao fiscal o caderno de prova completo e o cartão-resposta devidamente preenchido e assinado.

Conhecimentos Gerais

(20 questões)

Português

10 questões

Texto

Uma pesquisa em 27 países mostrou que a biblioteca familiar se correlaciona mais com bons resultados na educação do que a própria escolaridade dos pais. Uma biblioteca de 500 livros se associa a acréscimos de escolaridade que vão de 3 a 7 anos. Segundo os autores, “uma casa onde os livros são valorizados fornece às crianças ferramentas que são diretamente úteis no aprendizado escolar.” E tem mais, leitores mais assíduos visitam mais museus, fotografam mais e, surpresa, praticam mais esportes.

Claudio de Moura Castro, in *Veja*, 11 jan. 2012, p. 20.

1. Assinale a alternativa **correta**, em relação ao texto.

No que diz respeito à educação:

- a. () a escolaridade dos pais não influencia no desempenho escolar dos filhos.
- b. () para crianças de 3 a 7 anos a escolaridade está associada a bons livros.
- c. (X) mais que a escolaridade paterna, o que influencia positivamente é a existência de uma biblioteca familiar.
- d. () está comprovado que alunos sem uma biblioteca familiar não têm condições de obter bons resultados escolares.
- e. () segundo pesquisa realizada em 27 países, uma biblioteca familiar deve ter, no mínimo, 500 livros.

2. Observe este fragmento:

“E tem mais, leitores mais assíduos visitam mais museus, fotografam mais e, surpresa, praticam mais esportes.”

Assinale a alternativa **correta**.

- a. () Em “leitores mais assíduos” o sentido da palavra sublinhada equivale ao de cuidadosos.
- b. () A expressão “E tem mais” é essencial à compreensão da frase em que se encontra.
- c. () A palavra surpresa encontra-se entre vírgulas por ser um aposto.
- d. () Em “e, surpresa, praticam mais esportes” há uma oração coordenada conclusiva.
- e. (X) Em “E tem mais,” a vírgula pode ser substituída por dois pontos, sem prejuízo para o sentido da frase.

3. Assinale a alternativa **correta**.

- a. (X) A regra de acentuação de própria se aplica a assíduos.
- b. () O acento gráfico das palavras são e úteis obedece à mesma regra gramatical.
- c. () Em “se correlaciona” a palavra sublinhada implica ideia de condição.
- d. () Em “no aprendizado escolar” há ideia de lugar físico.
- e. () Passando para o plural o substantivo país, (“escolaridade dos pais”) ele receberá acento gráfico como países (“em 27 países”).

4. Observe as afirmações abaixo, em relação à existência ou não do acento indicador de crase.

1. Em “**a** própria escolaridade dos pais” o **a** não recebeu acento pois é apenas artigo definido.
2. Em “se associa **a** acréscimos de escolaridade” se **acrécimos** estivesse no singular haveria acento.
3. Em “que vão de 3 **a** 7 anos” o **a** não recebeu acento pois é apenas preposição.
4. Em “Das 3 **às** 7 horas visitaremos o museu” o **às** recebeu acento porque ocorreu contração da preposição **a** com o artigo definido **a**.
5. Em “fornece **às** crianças” o acento de crase permaneceria, se fosse escrito “**a** crianças”.

Assinale a alternativa que indica todas as afirmativas **corretas**.

- a. () São corretas apenas as afirmativas 2 e 4.
- b. (X) São corretas apenas as afirmativas 1, 3 e 4.
- c. () São corretas apenas as afirmativas 1, 3 e 5.
- d. () São corretas apenas as afirmativas 1, 4 e 5.
- e. () São corretas apenas as afirmativas 2, 3 e 5.

5. Assinale a alternativa **correta**.

- a. (X) V. S^a espera que lhe apresentemos as instalações deste departamento?
- b. () Por que você não procura a biblioteca que te falei?
- c. () Em “mostrou que a biblioteca escolar” a forma verbal indica ação remota no passado.
- d. () Em “onde os livros são valorizados” a forma verbal indica ação continuada, no passado.
- e. () Em “visitam mais museus”, substituindo-se a palavra sublinhada por um pronome, obtém-se visitam-lhes mais.

6. Assinale a alternativa **correta**, quanto à regência.

- a. () Moro à rua central da cidade.
- b. (X) Aspiro à aprovação neste concurso.
- c. () Prefiro uma vida calma do que muita agitação.
- d. () Assisti o filme na TV com meus amigos.
- e. () Não gostei do jogo que assisti na TV.

7. Os vícios de linguagem ocorrem quando um falante emprega construções que não respeitam as normas da língua padrão (e ele o faz por desconhecê-las ou não se preocupar com elas).

Assinale a alternativa com a frase que **não** apresenta vício de linguagem.

- a. () A pesquisa sobre educação trouxe uma surpresa inesperada para os pais.
- b. () Todos são unânimes ao afirmar que a boa leitura é importante veículo de educação.
- c. () Precisamos encarar de frente o problema da má educação no país.
- d. (X) Já faz quarenta anos que nos preocupamos com a educação brasileira.
- e. () É nos pequenos detalhes que se verifica a causa do sucesso dos bons estudantes.

8. Parônimos são palavras semelhantes na pronúncia e na grafia, mas com sentidos diferentes.

Assinale a alternativa **correta**, quanto ao emprego do(s) parônimo(s).

- a. () Desejo **retificar** meu apoio à reciclagem de lixo.
- b. () O **iminente** juiz está **eminente** a ser desembargador.
- c. () O ladrão foi preso em **fragrante**, ao chegar a sua casa.
- d. () **Comprimentarei** meu colega, se ele for aprovado neste concurso.
- e. (X) Porque a leitura dos contos **fluiu**, lvo **frui** cada página do livro.

9. Assinale a alternativa gramaticalmente **correta**.

- a. (X) Há menos candidatas do que eu esperava.
- b. () Dizes que não entreguei-te uma cópia do novo guia de trânsito?
- c. () Nesta sala a turma, silenciosa, respondem as questões da prova.
- d. () Se meus amigos proporem uma viagem, aceitarei ir junto.
- e. () Para Carlos, praia, sol ou chuva, calor, tudo sempre lhe agradam.

10. Assinale a alternativa **correta**, em relação aos requisitos de uma redação oficial.

- a. () Nas comunicações oficiais é facultativo o emprego de pronomes de tratamento.
- b. () Não é obrigatório o uso de linguagem culta nos atos e expedientes oficiais, a fim de que qualquer pessoa possa entendê-los.
- c. () Se a autoridade a quem é dirigido um documento oficial for amiga de quem assina o documento, admitem-se expressões de afetividade (*Querido amigo*, por exemplo).
- d. () Em correspondência dirigida a autoridades tratadas por *Vossa Excelência* é obrigatório o tratamento DD (Digníssimo), para lembrar a dignidade do cargo que elas ocupam.
- e. (X) Nas comunicações oficiais empregam-se dois tipos de fechos: Respeitosamente, para autoridades superiores e para o Presidente da República, e Atenciosamente, para autoridades de mesma hierarquia ou de hierarquia inferior.

Estudos Sociais

5 questões

11. Em relação à Independência do Brasil, analise as afirmativas abaixo:

1. A independência não foi imediatamente aceita por todos os grupos políticos organizados no Brasil;
2. A emancipação brasileira só foi reconhecida por parte de Portugal em 1825, mediante pagamento de indenização;
3. O primeiro país a reconhecer a independência do Brasil foi a Inglaterra;
4. O regime que vigorou no pós-independência foi o de monarquia constitucional.

Assinale a alternativa que indica todas as afirmativas **corretas**.

- a. () São corretas apenas as afirmativas 1 e 2.
- b. () São corretas apenas as afirmativas 2 e 3.
- c. () São corretas apenas as afirmativas 2 e 4.
- d. (X) São corretas apenas as afirmativas 1, 2 e 4.
- e. () São corretas apenas as afirmativas 1, 3 e 4.

12. O Brasil historicamente vem se posicionando como um dos líderes políticos no âmbito regional e internacional com destaque para o cenário latino-americano. Por possuir proporções continentais, é favorecido em sua geopolítica fazendo fronteira, na região centro-oeste, com os países:

- a. () Peru e Bolívia.
- b. () Equador e Peru.
- c. (X) Bolívia e Paraguai.
- d. () Chile e Argentina.
- e. () Colômbia e Venezuela.

13. Presidente que sancionou a Lei de Anistia, tornando possível a volta dos exilados políticos e a libertação de acusados de crimes políticos durante o período militar (1964-1985).

- a. () José Sarney
- b. () Itamar Franco
- c. () Tancredo Neves
- d. (X) João Baptista Figueredo
- e. () Fernando Henrique Cardoso

14. Ao longo do ano de 2011, algumas instabilidades financeiras assolaram o sistema econômico internacional, com destaque para a crise grega.

Aponte o principal problema enfrentado pela economia da Grécia:

- a. () Desvalorização cambial do dracma.
- b. () Aumento do nível emprego formal e informal.
- c. (X) Elevado grau de endividamento do governo e do setor privado.
- d. () Aumento de impostos de importação sobre produtos industrializados.
- e. () Embargo econômico por parte dos Estados Unidos e Rússia.

15. O Haiti, país mais pobre das Américas, foi vítima, em janeiro de 2010, de um terremoto que matou milhares de pessoas, além de deixar a capital Porto Príncipe destruída e a economia local paralisada, agravando ainda mais os problemas sociais do país.

O Brasil foi um dos diversos países que enviou ajuda humanitária em decorrência do desastre, mas vale lembrar, no entanto, que a atuação junto ao Haiti já vem de tempos anteriores ao terremoto, e se destaca pelo(a):

- a. (X) liderança da força de paz organizada pelas Nações Unidas, através do envio de militares ao país.
- b. () acordo comercial para importação de produtos agrícolas e maquinofaturados isentos de imposto de importação.
- c. () envio de verbas para combater a fome através da implementação do programa "Fome Zero Haiti".
- d. () criação de centros de ensino profissionalizantes que atenderão estudantes do ensino fundamental e médio na capital Porto Príncipe.
- e. () liberação anual de 200 mil vistos de trabalho para famílias com baixa renda emigrarem para o Brasil.

Noções de Informática

5 questões


16. Considere a figura abaixo retirada de uma planilha do Microsoft Excel 2010:

	A	B
1	Empréstimo	
2	Valor empréstimo	R\$ 5.631,55
3	Quantidade de parcelas	10
4	Juros (am)	1,00%
5		
6	Valor da parcela	R\$ 594,59
7	Total	R\$ 5.945,91

Assinale a alternativa que indica **corretamente** a fórmula aplicada nas células B6:

- a. () =SOMA(B2;B4)
- b. (X) =PGTO(B4;B3;-B2;0)
- c. () =SUBTOTAL(4;B2;B3;B4)
- d. () =PRODUTO(B6;B3)
- e. () =PROB(B2;B3;B4)

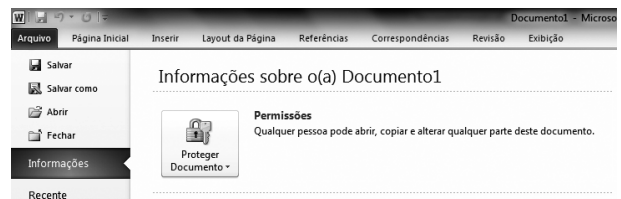
17. Identifique as afirmativas que definem corretamente o Desfragmentador de Disco no Windows 7:

- 1. Reorganiza dados fragmentados para que o disco rígido trabalhe de forma mais eficiente.
- 2. Gerencia os diferentes serviços que são executados em segundo plano.
- 3. Os passos para abrir o Desfragmentador de Disco é: clique no botão iniciar , em Todos os Programas, em Acessórios, em Ferramentas do Sistema e, depois, em Desfragmentador de Disco.

Assinale a alternativa que indica todas as afirmativas **corretas**.

- a. () É correta apenas a afirmativa 1.
- b. () É correta apenas a afirmativa 2.
- c. (X) São corretas apenas as afirmativas 1 e 3.
- d. () São corretas apenas as afirmativas 2 e 3.
- e. () São corretas as afirmativas 1, 2 e 3.

18. Analise a figura abaixo:













Assinale a alternativa que corresponde **corretamente** todas as opções exibidas para Proteger Documento no Windows Word 2010:




- a. () Marcar como Final; Criptografar com Senha.
- b. () Inspeccionar Documento; Verificar Acessibilidade; Verificar Compatibilidade.
- c. () Restringir Permissão por Pessoas; Criptografar com Senha.
- d. () Restringir Edição; Adicionar uma Assinatura Digital.
- e. (X) Marcar como Final; Criptografar com Senha; Restringir Edição; Restringir Permissão por Pessoas; Adicionar uma Assinatura Digital.

19. Os atalhos de teclado são combinações de duas ou mais teclas que, quando pressionadas, podem ser usadas para executar uma tarefa que normalmente exigiria um mouse ou um dispositivo apontador.

Assinale a alternativa que indica a combinação de teclas **correta** para abrir o *Windows Mobility Center*, no Windows 7.

- a. () Teclas  + 
- b. (X) Teclas  + 
- c. () Teclas  + 
- d. () Teclas  + 
- e. () Teclas  + 

20. Considere a figura abaixo retirada de uma planilha do Microsoft Excel 2010:

	A	B	C	D
1	Janeiro	Fevereiro	Março	
2	R\$ 550,00	R\$ 1.056,22	R\$ 123,90	
3	R\$ 166,33	-R\$ 123,00	R\$ 87,55	
4	R\$ 233,77	R\$ 723,43	R\$ 124,00	

Assinale a alternativa que indica **corretamente** o Minigráfico aplicado nas células D2, D3 e D4:

- a. () Minigráfico de Coluna.
- b. () Minigráfico de Área.
- c. () Minigráfico de Barra.
- d. (X) Minigráfico de Linha.
- e. () Minigráfico de Ganhos / Perdas.

Conhecimentos Específicos

(30 questões)

21. De acordo com o Estatuto dos Servidores Públicos Cíveis do Estado de Santa Catarina, o deslocamento motivado de cargo de provimento efetivo, ocupado ou vago no âmbito do quadro de pessoal, para outro órgão ou entidade do mesmo Poder, com prévia apreciação do órgão central de pessoal, chama-se:

- a. () Distribuição.
- b. () Readaptação.
- c. () Recondição.
- d. (X) Redistribuição.
- e. () Reintegração.

22. Conforme o disposto na “Convenção sobre os Direitos das Pessoas com Deficiência”, aprovada pelo Decreto Legislativo nº 186, de 2008, os Estados Partes tomarão medidas efetivas para assegurar às pessoas com deficiência sua “mobilidade pessoal” com a máxima independência possível.

Dentre as medidas asseguradas pela Convenção **não** se inclui:

- a. (X) Implementar políticas públicas voltadas à criação e ao desenvolvimento de tecnologias assistivas.
- b. () Facilitar a mobilidade pessoal das pessoas com deficiência, na forma e no momento em que elas quiserem, e a custo acessível.
- c. () Facilitar às pessoas com deficiência o acesso a tecnologias assistivas, dispositivos e ajudas técnicas de qualidade, e formas de assistência humana ou animal e de mediadores, inclusive tornando-os disponíveis a custo acessível.
- d. () Propiciar às pessoas com deficiência e ao pessoal especializado uma capacitação em técnicas de mobilidade.
- e. () Incentivar entidades que produzem ajudas técnicas de mobilidade, dispositivos e tecnologias assistivas a levarem em conta todos os aspectos relativos à mobilidade de pessoas com deficiência.

23. Com fundamento na Lei nº 6.745, de 28 de dezembro de 1985, que estabelece o Estatuto dos Servidores Públicos Cíveis do Estado de Santa Catarina, a demissão qualificada incompatibiliza o ex-funcionário com o exercício de cargo ou emprego público pelo período de:

- a. () 2 a 4 anos.
- b. () 3 a 8 anos.
- c. () 3 a 10 anos.
- d. () 5 a 8 anos.
- e. (X) 5 a 10 anos.

24. De acordo com a “Convenção sobre os Direitos das Pessoas com Deficiência”, aprovada pelo Decreto Legislativo nº 186/2008, será estabelecido um “Comitê” para desempenhar as funções definidas.

O Comitê será constituído, quando da entrada em vigor da presente Convenção, de peritos e, quando a Convenção alcançar sessenta ratificações ou adesões, o Comitê será acrescido em membros.

Assinale a alternativa que preenche **correta** e sequencialmente as lacunas do texto.

- a. () quinze ; cinco
- b. (X) doze ; seis
- c. () dez ; oito
- d. () oito ; dez
- e. () seis ; doze

25. A imagem de um espelho plano é:

- a. () real, igual e direta.
- b. () real, maior e invertida.
- c. () virtual, menor e direta.
- d. (X) virtual, igual e direta.
- e. () virtual, maior e invertida.

26. Aproximadamente dois terços do poder refrativo do globo ocular humano podem ser atribuídos:

- a. à retina.
 - b. à córnea.
 - c. ao cristalino.
 - d. ao corpo vítreo.
 - e. ao humor aquoso.
-

27. Quais das estruturas oculares abaixo relacionadas têm como característica comum a avascularidade?

- a. Córnea, íris e retina.
 - b. Cristalino, íris e coróide.
 - c. Retina, cristalino e coróide.
 - d. Córnea, cristalino e corpo vítreo.
 - e. Corpo vítreo, corpo ciliar e retina.
-

28. Nos movimentos oculares monoculares, a contração de um músculo extraocular resulta no simultâneo relaxamento de seu antagonista no mesmo olho. Isso caracteriza a lei de:

- a. Fick.
 - b. Hering.
 - c. Snellen.
 - d. Poiseuille.
 - e. Sherrington.
-

29. Um paciente após esquiascopia sob cicloplegia apresenta a seguinte refração:

- $AO = + 1,50 \text{ esf.} - 2,50 \text{ cil A } 180^\circ.$

Podemos afirmar que o mesmo é portador de astigmatismo:

- a. misto contra a regra.
- b. misto a favor da regra.
- c. miópico composto contra a regra.
- d. miópico composto a favor da regra.
- e. hipermetrópico composto contra a regra.

30. Ao realizar-se o teste bicromático (vermelho/verde) num paciente míope após a esquiascopia, constatou-se que ele enxerga melhor as letras no lado verde com o olho direito (OD) e as letras no lado vermelho com o olho esquerdo (OE).

Esses achados permitem concluir que há:

- a. hipercorreção no OD e hipocorreção no OE.
 - b. hipocorreção no OD e hipercorreção no OE.
 - c. normocorreção no OD e hipercorreção no OE.
 - d. hipocorreção no OD e normocorreção no OE.
 - e. hipercorreção no OD e normocorreção no OE.
-

31. As lentes esféricas convexas ou convergentes estão indicadas para a correção de:

- a. miopia e presbiopia.
 - b. miopia e astigmatismo
 - c. hipermetropia e presbiopia.
 - d. hipermetropia e astigmatismo.
 - e. presbiopia e astigmatismo.
-

32. O período de maturação do sistema nervoso central relacionado com a acuidade visual situa-se, aproximadamente, entre:

- a. o nascimento e os 9 anos de idade.
 - b. o nascimento e os 12 anos de idade.
 - c. os 2 e os 4 anos de idade.
 - d. os 2 e os 7 anos de idade.
 - e. os 2 e os 21 anos de idade.
-

33. O poder dióptrico total do globo ocular humano normal é de aproximadamente:

- a. + 48,5 dioptrias.
- b. + 53,8 dioptrias.
- c. + 58,7 dioptrias.
- d. + 65,0 dioptrias.
- e. + 66,5 dioptrias.

34. Assinale a alternativa correta.

- a. O índice de refração do cristalino diminui do núcleo em direção ao córtex.
 - b. A miose aumenta as aberrações e diminui a profundidade de foco.
 - c. Os bastonetes são as células fotorreceptoras responsáveis pela visão cromática.
 - d. Os cones são as células fotorreceptoras responsáveis pela visão escotópica.
 - e. No ar, o cristalino é uma lente com poder de refração maior do que a córnea, pois é biconcavo.
-

35. Quais das estruturas oculares abaixo relacionadas fazem parte da túnica externa ou fibrosa do globo ocular humano?

- a. Retina e epitélio pigmentar.
 - b. Íris e nervo óptico.
 - c. Corpo vítreo e cristalino.
 - d. Corpo ciliar e coroide.
 - e. Córnea e esclera.
-

36. A luz de cor alaranjada do espectro luminoso visível tem comprimento de onda em torno de:

- a. 455 a 492 nm.
 - b. 492 a 575 nm.
 - c. 574 a 585 nm.
 - d. 585 a 647 nm.
 - e. 647 a 723 nm.
-

37. O equivalente esférico da refração – 4,00 esf. – 1,00 cil. A 180° é:

- a. – 3,00 esf.
 - b. – 3,50 esf.
 - c. – 4,50 esf.
 - d. – 5,00 esf.
 - e. – 5,50 esf.
-

38. Assinale a alternativa correta.

- a. A hipermetropia está associada ao aumento antero-posterior do globo ocular.
 - b. A hipermetropia não tem relação com os estrabismos acomodativos.
 - c. A correção do astigmatismo é realizada com lentes esféricas divergentes.
 - d. A correção da miopia é realizada com lentes cilíndricas.
 - e. Podemos encontrar ambliopia nos olhos portadores de alta hipermetropia.
-

39. O diâmetro axial (antero-posterior) do globo ocular humano adulto mede aproximadamente:

- a. 18 a 20 mm.
 - b. 21 a 22 mm.
 - c. 23 a 24 mm.
 - d. 25 a 26 mm.
 - e. 27 a 28 mm.
-

40. No exame da refração ocular, qual é a função do cilindro cruzado de Jackson?

- a. Determinar a adição da presbiopia.
 - b. Determinar a presença de astigmatismo.
 - c. Comprovar a exatidão da correção esférica.
 - d. Auxiliar na detecção das discromatopsias.
 - e. Aumentar a precisão do exame das heteroforias.
-

41. Um paciente com 20 anos de idade lê a 5 metros os optotipos de Snellen que deveria ler a 50 metros.

Qual é a sua acuidade visual?

- a. 1,0
- b. 0,4
- c. 0,2
- d. 0,1
- e. 0,01

42. Num globo ocular com astigmatismo miópico composto encontra(m)-se:

- a. Uma linha focal ao nível da retina.
 - b. Uma linha focal na frente e a outra atrás da retina.
 - c. Duas linhas focais situadas na frente da retina.
 - d. Duas linhas focais situadas atrás da retina.
 - e. Duas linhas focais situadas na frente do cristalino.
-

43. Por definição, segundo Charles F. Prentice, uma dioptria prismática é a força prismática capaz de desviar um raio de luz em:

- a. um milímetro na distância de um metro.
 - b. um centímetro na distância de um centímetro.
 - c. um centímetro na distância de um metro.
 - d. um centímetro na distância de dez metros.
 - e. dez centímetros na distância de um metro.
-

44. Dos músculos extraoculares abaixo relacionados, o que tem a sua inserção localizada mais próxima ao limbo córneo-escleral é o:

- a. reto medial.
 - b. reto lateral.
 - c. reto inferior.
 - d. reto superior.
 - e. oblíquo inferior.
-

45. Um paciente com 53 anos de idade, com dificuldade para a leitura, apresenta exame ocular normal, visão normal e sem vício de refração para longe.

Seu diagnóstico e conduta são, respectivamente:

- a. miopia e óculos para longe.
- b. presbiopia e óculos para perto.
- c. hipermetropia e óculos para perto.
- d. astigmatismo e lentes de contato.
- e. presbiopia e óculos para longe.

46. As tabelas de optotipos de Snellen e Jaeger são utilizadas, respectivamente, para:

- a. diagnosticar presbiopia e miopia.
 - b. diagnosticar miopia e hipermetropia.
 - c. diagnosticar astigmatismo e presbiopia.
 - d. medir a acuidade visual para perto e longe.
 - e. medir a acuidade visual para longe e perto.
-

47. A acomodação visual é um fenômeno ocular do qual participam as seguintes estruturas oculares:

- a. pupila, coroide e cristalino.
 - b. coroide, corpo ciliar e retina.
 - c. reto medial, processos ciliares e cristalino.
 - d. corpo ciliar, ligamento suspensor do cristalino e cristalino.
 - e. pupila, ligamento suspensor do cristalino e malha trabecular.
-

48. Uma paciente com 14 anos de idade queixa-se de baixa acuidade visual para longe em ambos os olhos. Ela relata também nunca ter usado óculos ou realizado um exame oftalmológico. No teste do buraco ou orifício estenopêico você constata melhora da visão em ambos os olhos.

O seu diagnóstico será:

- a. miopia.
 - b. ametropia.
 - c. hipermetropia.
 - d. astigmatismo.
 - e. presbiopia.
-

49. O retinoscópio de faixa é um aparelho oftalmológico utilizado para:

- a. examinar o fundo do olho.
- b. medir a pressão intraocular.
- c. diagnosticar doenças da retina.
- d. realizar o exame subjetivo da refração ocular.
- e. realizar o exame objetivo da refração ocular.

50. O processo de dividir a luz branca em suas cores componentes é denominado de:

- a. dispersão.
- b. difusão.
- c. difração.
- d. polarização.
- e. reflexão.

**Página
em Branco.
(rascunho)**

**Página
em Branco.
(rascunho)**



FEPESE • Fundação de Estudos e Pesquisas Sócio-Econômicos
Campus Universitário • UFSC • 88040-900 • Florianópolis • SC
Fone/Fax: (48) 3953-1000 • <http://www.fepese.org.br>